

ВСЕРОССИЙСКАЯ ОЛИМПИАДА ШКОЛЬНИКОВ
ПО ОБЖ 2020–2021 уч. г. ШКОЛЬНЫЙ ЭТАП

7–8 классы

Тестовые задания

Определите один правильный ответ
За правильный ответ начисляется 2 балла

- 2 1 Изображённый знак в вагоне метро означает
- 1) «не прислоняться к дверям»
 - 2) «не входить в двери»
 - 3) «не останавливаться у дверей»
 - 4) «не подходить к дверям»
- 2 2 Минимальная безопасная толщина льда для сооружения катка должна составлять не менее
- 1) 7 см
 - 2) 30 см
 - 3) 9 см
 - 4) 12 см
- 2 3 Отлогая сторона муравейника указывает направление на
- 1) восток
 - 2) запад
 - 3) север
 - 4) юг
- 2 4 День спасателя Российской Федерации отмечается
- 1) 27 декабря
 - 2) 4 октября
 - 3) 30 апреля
 - 4) 1 марта
- 2 5 Дезинфекция средств индивидуальной защиты – это
- 1) обезвреживание (нейтрализация, разбавление) или удаление опасных химических веществ со средств индивидуальной защиты
 - 2) удаление (снижение) радиоактивного загрязнения со средств индивидуальной защиты и их комплектующих изделий
 - 3) удаление (снижение) бактериального загрязнения со средств индивидуальной защиты и их комплектующих изделий
 - 4) удаление членистоногих со средств индивидуальной защиты и их комплектующих изделий



- 6 **Верны ли утверждения?**
При выборе СИЗОД необходимо учитывать
А. возможный уровень концентрации ОХВ в воздухе
Б. время защитного действия СИЗОД
1) верно только А
☒ 2) верно только Б
3) верны оба суждения
4) оба суждения неверны
- 7 **Рекомендуемая зона удаления при обнаружении гранаты Ф-1 составляет**
1) 50 м
2) 200 м
3) 250 м
☒ 4) 55 м
- 2 8 **Какой витамин образуется в коже под действием солнечного излучения?**
1) В₆
2) С
3) К
☒ 4) D
- 9 **Оказание первой помощи необходимо начинать с**
1) вызова скорой медицинской помощи
2) определения признаков жизни у пострадавшего
3) оценки обстановки и обеспечения безопасных условий для её оказания
☒ 4) выяснения обстоятельств травмы
- 10 **Какая повязка используется для остановки кровотечения?**
1) укрепляющая
☒ 2) иммобилизирующая
3) давящая
4) герметизирующая

12

Определите два правильных ответа

За каждый правильный ответ начисляется **2 балла**

- 2 1 **Какой сигнальный цвет и какую геометрическую форму имеют предупреждающие знаки безопасности?**
1) синий
2) треугольник
3) квадрат
4) жёлтый
5) круг с поперечной полосой
- 2 **Для тушения небольшого бытового возгорания можно воспользоваться**
1) мукой
2) содой
3) плотной шерстяной тканью
4) какао-порошком
5) плотной синтетической тканью
- 3 **Какие растения являются ядовитыми?**
1) ландыш
2) актинидия острая
3) анис
4) бенинказа щетинисто-волосистая
5) болиголов крапчатый
- 4 **К опасным гидрологическим явлениям и процессам относятся**
1) сель
2) оползень
3) лава
4) землетрясение
5) цунами
- 5 **К характеристикам, по которым оценивается землетрясение, относят**
1) магнитуду
2) продолжительность
3) интенсивность
4) распространённость
5) частоту
- 6 **К средствам индивидуальной защиты кожи относятся**
1) защитное дерматологическое средство
2) камера защитная детская
3) изолирующий противогаз
4) щиток защитный лицевой
5) противошумные наушники

- 2 7 Какие организации в соответствии с законодательством Российской Федерации признаны террористическими и экстремистскими?
- 1) «База»
 - 2) «Аванпост»
 - 3) «Правый сектор»
 - 4) «Ата йорты – Отчий дом»
 - 5) «STS»
- 8 Какие состояния характеризуют малоподвижный образ жизни?
- 1) гиперактивность
 - 2) гипотрофия
 - 3) гипокинезия
 - 4) гиперкинезия
 - 5) гиподинамия
- 2 9 Укажите номера для вызова скорой медицинской помощи с сотового телефона
- 1) 03
 - 2) 102
 - 3) 112
 - 4) 103
 - 5) 04
- 10 Какие признаки характерны для ожога второй степени?
- 1) отёк, покраснение
 - 2) наличие пузырей с прозрачным содержимым
 - 3) отсутствие чувствительности в месте повреждения
 - 4) обугливание кожи и подкожной клетчатки
 - 5) обугливание мягких тканей и частично костей

Максимум за тестовые задания – 60 баллов.

65

Теоретические задания

Задание 1






Установите соответствие между изображением дорожного знака и его наименованием.

	«Стоянка велосипедов запрещена»
	«Стоянка запрещена»
	«Велосипедная дорожка или полоса»
	«Движение на велосипедах запрещено»
	«Движение запрещено»
	«Конец велосипедной дорожки или полосы»
	«Въезд запрещён»
	«Место отдыха»
	«Кемпинг»
	«Остановка запрещена»

2

Задание 2

Каждый визуальный сигнал «поверхность – воздух», применяемый при поисково-спасательных операциях, имеет определённое значение. Установите соответствие между изображением сигнала и его значением.

	«Нужны пища и вода»
	«Всё в порядке»
	«Нужны сигнальная лампа с батареей и радиостанцией»
	«Укажите направление следования»
	«Да, или положительно»
	«Требуются карта и компас»
	«Здесь можно безопасно совершить посадку»

Задание 3

В целях своевременного информирования населения о возникновении угрозы террористического акта и организации деятельности по противодействию его совершению на отдельных территориях РФ могут устанавливаться уровни террористической опасности.

А. Выберите цветовое обозначение уровней террористической опасности и расположите их в порядке возрастания (от минимального к максимальному).

- А. «фиолетовый»
- Б. «красный»
- В. «жёлтый»
- Г. «зелёный»
- Д. «оранжевый»
- Е. «синий»

В ответ запишите последовательность букв, соответствующих уровням террористической опасности (от минимального к максимальному) без пробелов и других разделителей.

Образец записи ответа: ЕДГ или ДГВЕ

Б. Установите соответствие между выбранными цветовыми обозначениями уровней террористической опасности и условиями их установления.

«фиолетовый»	Повышенный – при наличии требующей подтверждения информации о реальной возможности совершения террористического акта
«красный»	
«жёлтый»	Высокий – при наличии подтверждённой информации о реальной возможности совершения террористического акта
«зелёный»	
«оранжевый»	Критический – при наличии информации о совершённом террористическом акте либо о совершении действий, создающих непосредственную угрозу террористического акта
«синий»	

Задание 4–5

А. Перелом – нарушение целостности кости. Признаки перелома делятся на две группы: достоверные и косвенные.

Вариант 1. Выберите достоверные признаки перелома.

Вариант 2. Выберите косвенные признаки перелома.

Признаки перелома

1. Деформация в месте повреждения

2. Костный хруст

1 3. Отёк в месте повреждения

4. Укорочение (удлинение) пострадавшей части конечности

5. Кровоизлияние в месте повреждения 2

1 6. Нарушение функции конечности 2

1 7. Боль в месте повреждения 2

2 1 8. Патологическая подвижность

Б. При переломе(-ах) какой(-их) кости(-ей) выполняется иммобилизация, изображённая на рисунке?

1) шеи

2) рёбер

3) плечевой кости

4) костей кисти



Максимальная оценка за работу – 100 баллов.

85